

《学习报》是一份多学科、多层次、多角度面向全国大中小学生及教育工作者的教辅类报纸。本报的办报方针是“紧扣课标及教材，针对年级特点和学科特色同步辅导”。本报旨在拓宽学生阅读视野，激发学习兴趣，培养高尚的人格和高雅的情趣，提升综合能力。本报诚邀各学科各类教育、教辅稿件，撰稿、荐稿者请注意以下事项：

- 1. 稿件一经采用，即视为同意将网络传播权及电子发行权授予本报。本报一次性支付的稿酬已包含上述授权的使用费。
2. 荐稿或稿件中选用他人文章时，请务必注明原稿件作者姓名和选文出处，否则不予刊登。若原出版者注明“未经许可，不得转载”，请勿推荐，来稿一律不收。推荐类稿件一经采用，本报将依据《中华人民共和国著作权法》之规定给原作者和推荐者奉寄稿酬和样报。
3. 由于部分作者通讯地址不详，见报后请与我报及时联系，以便奉寄稿酬和样报。
电话：0351-3239626（总编办）或请与各编辑部联系咨询。



学习报

http://www.xuexibao.com

山西出版传媒集团主管 山西三晋报刊传媒集团主办 学习报社编辑出版 总编辑 苗俊青 国内统一刊号 CN14-0708/(F)

北师大 2019-2020 学年 一年级数学 第24期 出版日期 2020年2月26日 总第1456期

剪绳子 漫画大本营 故事城堡 智慧小岛 1. 剪去5+2=7(米), 还剩12-7=5(米), 比原来短了12-5=7(米). 2. 绳子比原来短多少米=剪去的长度. 5+2=7(米). 3. 还有这么简便的方法! 我要向你学习.

孙悟空选帅 故事城堡 智慧小岛 孙悟空想在11只猴子中选一只担任花果山大帅一职. 孙悟空说:“你们站成一排, 从左往右按‘1、2’报数, 单数淘汰, 然后再从左到右按‘1、2’报数, 再淘汰单数... 最后剩下的一只, 就是我要选的大帅. 现在你们开始排队.” 机灵猴想了想, 选择了一个位置. 最后, 他成了花果山的大帅. 小朋友, 请你想一想, 机灵猴站在从左数的第几个位置?

学习风向标 《观察物体》目标指南 小朋友, 本周你要学习这些本领哟! 1. 从不同方位观察到的同一物体的形状可能是不同的. 2. 可以根据物体形状判断是从哪个方向看到的.

互相帮助 开心一刻 您不是说我同学之间要互相帮助吗? 您不是在说考试也是一种学习吗? 您不是在说考试也是一种学习吗?

童话七彩屋 快乐的哈米 考拉哈米是森林蛋糕房的蛋糕师, 它烤的蛋糕又香又甜, 大家都非常喜欢. 一大早, 哈米就烤了7块水果蛋糕和7块巧克力蛋糕. 老鹰奇奇闻到了香味, 马上飞过来:“哈米, 我要1块水果蛋糕和3块巧克力蛋糕.” 哈米把4块蛋糕放在篮子里, 想扔给奇奇, 结果篮子掉到池塘里. 一群小鱼把蛋糕吃光了, 说:“哈米, 谢谢你的蛋糕!” 哈米又装了1块水果蛋糕和3块巧克力蛋糕扔给奇奇, 奇奇接住后高兴地飞走了. “14-8=6, 只剩下6块啦!” 哈米自言自语道, “我得赶紧再烤一些.” 很快, 5块冰激凌蛋糕就出炉了. 试一试 哈米现在有多少块蛋糕?

学习报·小学趣学堂 微信扫码 获取免费资源 家长辅导真轻松

课堂直播间

和图图一起观察物体

☆安徽 尤欢

zhè tiān tú tú hé xiǎo dòu dīng yì qǐ bèi táng shī
这天，图图和小豆丁一起背唐诗。

题西林壁

héng kàn chéng líng cè chéng fēng
横看成岭侧成峰，
yuǎn jìn gāo dī gè bù tóng
远近高低各不同。
bù shí lú shān zhēn miàn mù
不识庐山真面目，
.....

zhè yǒu shén me lì hai de? tú tú nǐ zhī dào zhè shì
这有什么厉害的?图图，你知道这是
shén me yì sī ma
什么意思吗?

dāng rán zhī dào wǒ bà ba gào su guò wǒ cóng bù
当然知道，我爸爸告诉过我。从不
tóng de jiǎo dù kàn tóng yí gè wù tǐ kàn dào de xíng
同的角度看同一个物体，看到的形
zhuàng kě néng bù yí yàng wǒ men guān chá wù tǐ
状可能不一样。我们观察物体
shí yào duō jiǎo dù guān chá zhè yàng cái néng zhī dào
时，要多角度观察，这样才能知道
wù tǐ de zhēn zhèng yàng zi
物体的真正样子。

nǐ zhī dào tā men kàn dào de fēn bié shì nǎ yí miàn ma
你知道他们看到的分别是哪一面吗?



xiǎo liàng cóng kǒng lóng de qián miàn kàn kàn dào de shì zhè ge yàng
子:
小亮从恐龙的前面看，看到的是这个样

xiǎo hóng zài kǒng lóng de hòu miàn kàn kàn dào de shì zhè
yàng:
小红在恐龙的后面看，看到的是这

nǐ men tài bàng le xiǎo míng zài kǒng lóng de páng
你们太棒了!小明在恐龙的旁

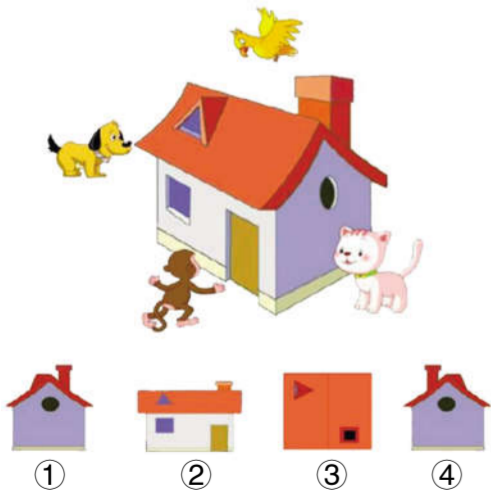
biān kàn kǒng lóng kàn dào de shì zhè yàng:
边看恐龙，看到的是这样:

yào xiǎng zhèng què pàn duàn cóng bù tóng wèi zhì guān
要想正确判断从不同位置观
chá dào de wù tǐ xíng zhuàng shǒu xiān yào què dìng
察到的物体形状，首先要确定
shì cóng shén me jiǎo dù guān chá de rán hòu bǎ zì
是从什么角度观察的，然后把自
jǐ dāng zuò guān chá rén qù tǐ huì suǒ kàn dào de
己当作观察人去体会所看到的
xíng zhuàng xíng zhuàng.
形状。

小精豆

练一练

xiǎo péng you nǐ zhī dào tā men kàn dào de fēn bié shì shén
么吗?填一填。(填序号)
小朋友，你知道它们看到的分别是什




xiǎo gǒu kàn dào de shì (), xiǎo hóu kàn dào de shì (),
xiǎo niǎo kàn dào de shì (), xiǎo māo kàn dào de shì ().
小狗看到的是(), 小猴看到的是(),
小鸟看到的是(), 小猫看到的是().

xuǎn yì xuǎn tián xù hào
2. 选一选。(填序号)



①正面 ②侧面 ③上面

我看到的汽车样子是()。



23期 2、3版参考答案

《加与减(一)》

单元测试

- 一、1. 8, 8, 10, 1, 3, 7, 7, 8, 10, 10, 8
2. 9, 5
3. -, +, -, -, +, -
4. >, >, <, <, =, <
5. 7, 13, 4, 12, 5; 12, 8, 4, 16, 7

二、1. 画图略; 5, 3

- 2. 14, 9, 7, 5; 13, 9, 12, 9; 7, 6, 8, 6; 7, 8, 6, 9

3. 略

三、略

四、1. 7+4=11

- 2. 11-5=6
3. 苹果, 12-5=7
4. 13-7=6

五、1. 17-8=9, 9

- 2. 12-8=4, 4
3. (1) 15-6=9, 9
(2) 11-4=7, 7
(3) 略

智力冲浪

- 1. 7+8-6=9 或 7+8-9=6 或 6+9-7=8 或 6+9-8=7

2. 5个

3. 8个

24期 4版参考答案

《孙悟空选帅》

第8

《多几个积木》

10个

报社地址: 太原市三墙路坝陵北街盛世华庭 A1 座 21 层
邮编: 030009

投稿邮箱: xxbsb1@126.com

本报电话: 0351-3239660

编辑质量监督电话:

0351-3239625

各科主编电话:(区号 0351)

语文: 3239630

数学: 3239641

英语: 3239662

物理、化学、生物、科学: 3239637

道德与法治、历史: 3239656

小学: 3239660

高中: 3239655

印刷: 河南东方传媒印务有限公司

地址: 郑州市二七区马寨工业园科技路 11 号

广告经营许可证号: 1400004000044

随时征订热线:

0351-3239622

邮局订户服务热线:

0351-3239623

本报四开四版

每学期 20 期

学期定价: 36.00 元



扫码免费获取
答题指南


《观察物体》单元测试

☆福建 陈宝珠 陈细荣

班级 _____ 姓名 _____

yī zhī shì pǐn pán
一、知识拼盘。

1. 右面的图分别是谁看到的? 是笑笑看到的画“△”, 是淘气看到的画“○”。



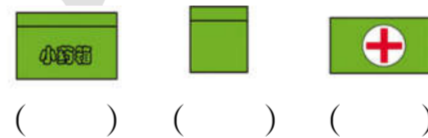
2. 填一填。(填名字)



下面的图形分别是谁看到的?



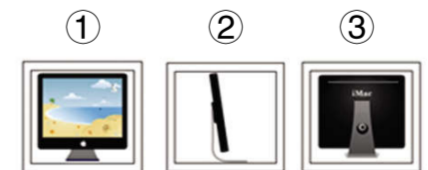
3. 从小药箱的上面看, 会看到哪幅图?(画“○”)
从小药箱的正面看, 会看到哪幅图?(画“√”)
从小药箱的侧面看, 会看到哪幅图?(画“△”)




èr jīng tiāo xì xuǎn bǎ zhèng què dá àn de xù hào tián zài kuò
二、精挑细选。(把正确答案的序号填在括

号里)

1. 下面哪幅图是小朋友从背面看到的?()




2. 下面哪幅图是小明拍到的?()



sān lián yì lián
三、连一连。

1. 下面的图分别是谁看到的?




2. 小朋友分别看到了车的哪一面?



3. 下面的图分别是谁看到的?



4. 小朋友们分别看到了房子的哪一面?



sì xià miàn de yì zǔ zhào piàn fēn bié shì zài xiǎo hóng de nǎ yí
四、下面的一组照片, 分别是在小红的哪一

miàn pāi de zhèng miàn bèi miàn zuǒ miàn yòu miàn
面拍的?(正面、背面、左面、右面)

